

KENDRIYA VIDYALAYA SANGATHAN
REGIONAL OFFICE – BHOPAL
ALL SUBJECTS ANSWER KEY WITH FEEDBACK CLASS-5
JANUARY 2024

CLASS – V

SUBJECT – ENGLISH

Syllabus covered – NOBODY’S FRIEND, THE LITTLE BULLY
(Reading)

Read the following passage and answer the questions.

The smile is the best tonic for our mind and body. It takes thirteen muscles to smile, but forty-three to be angry. So, it is easier to smile and difficult to be angry. To be cheerful, we have to create positive thoughts. On the other hand, if we constantly think about negative things, we feel unhappy. So, the best way to avoid a negative idea is to replace it with a positive one.

1. What is the best tonic for our mind and body?

- a) smile
- b) cry
- c) eat
- d) drink

Ans- a) Smile

Feedback -The smile is the best tonic for our mind and body.

2. What should we do to be cheerful?

- a) to create negative thoughts
- b) to create positive thoughts
- c) think about negative things
- d) all of these

Ans- b) to create positive thoughts

Feedback - To be cheerful, we have to create positive thoughts.

SECTION-B (Writing)

3) What does the child want to share in the last Stanza of the poem Nobody's Friends ?

- a) apple and cake
- b) sweets
- c) ball and books
- d) all of the above.

Ans-d)all of the above.

Feedback - the child wants to share apple , cake, sweets, ball and books in the last Stanza of the poem Nobody's Friends.

Q.4 What malpractice did Hari use to do with the boys and girls?

- a) to pinch
- b) to bite
- c) to Cheat
- d) None of these.

Ans- a) to pinch

Feedback - Hari used to pinch with the boys and girls.

SECTION-C (Grammar)

Q.5 Choose the correct article in the blank.

I found _____ empty bottle, floating in the water.

- a) a
- b) An
- c) No article
- d) Both

Ans- b) An

Feedback - I found an empty bottle, floating in the water.

6) The full form of shan't is _____

- a) should not
- b) shall not
- c) must not
- d) none of these

Ans- b) shall not

Feedback The full form of shan't is "shall not".

SECTION-D (Vocabulary)

7)The antonym of lend is _____

- a)take
- b) borrow
- c) give
- d) all of these

Ans- b) borrow

Feedback-The antonym of lend is "borrow"

Q.8 'Miserable' means-

- a) happy
- b) angry
- c) unhappy
- d) capable

Ans- c) unhappy

Feedback-'Miserable' means unhappy

SECTION-E (Spelling)

9)Rearrange the letters to make meaningful word. CHPIOAMN

- a) chpiaonm
- b) champion
- c) chipoman
- d) manochip

Ans- B) CHAMPION

Feedback- "champion" is the correct spelling.

10)The word that rhyme with "train" _____

- a) grown
- b) brain
- c) shown
- d) thrown

Ans- B) brain

Feedback- "The word that rhyme with "train" is "brain" .

CBT (जनवरी) कक्षा 5 विषय हिन्दी

पाठ – एशियाई शेर के लिए मीठी गोलियां, बिशन की दिलेरी ,रात भर बिलखते-चिंघाड़ते रहे

पठन

नीचे दिये गए अनुच्छेद को ध्यान से पढ़ कर दिये गए प्रश्नों के सही उत्तर चुनिए-
पेड़ और पौधों की जगह हमारे प्राकृतिक संसाधनों में महत्वपूर्ण हैं। यह हमें श्वास लेने के लिए ऑक्सीजन और भोजन के लिए फल और सब्जियाँ प्रदान करते हैं। पेड़-पौधे हमारे पर्यावरण को भी सुंदर और हरा – भरा बनाए रखते हैं।

प्रश्न – 1- हमारे प्राकृतिक संसाधनों में किसकी जगह महत्वपूर्ण हैं?

- अ) पेड़ और पौधों
- ब) भोजन
- स) फल और सब्जियाँ
- द) पर्यावरण

उत्तर- अ) पेड़ और पौधों

फीडबैक – अनुच्छेद के अनुसार, पेड़ और पौधों की जगह हमारे प्राकृतिक संसाधनों में महत्वपूर्ण हैं।

प्रश्न - 2 - पेड़-पौधे हमें श्वास लेने के लिए क्या प्रदान करते हैं।

- अ) भोजन
- ब) फल और सब्जियाँ
- स) ऑक्सीजन
- द) श्वास

उत्तर- द) ऑक्सीजन

फीडबैक- अनुच्छेद के अनुसार, पेड़-पौधे श्वास लेने के लिए ऑक्सीजन प्रदान करते हैं।

लेखन-

निम्न लिखित प्रश्नों के सही उत्तर को चुनिए।

3- बिशन की दिलेरी कहानी भारत के किस भौगोलिक क्षेत्र की होगी ?

- अ) समतल इलाके की
- ब) पहाड़ी इलाके की
- स) रेगिस्थानी इलाके की
- द) मैदानी इलाके की

उत्तर- ब) पहाड़ी इलाके की

फीडबैक- बिशन की दिलेरी कहानी भारत के पहाड़ी इलाके की है।

4- सिम्प्लीपाल टाइगर रिजर्व भारत के किस राज्य में स्थित है ?

- अ) बंगाल
- ब) उड़ीसा
- स) मध्यप्रदेश
- द) महाराष्ट्र

उत्तर- ब) उड़ीसा

फीडबैक-- सिम्प्लीपाल टाइगर रिजर्व भारत के उड़ीसा राज्य में स्थित है ।

5- बिशन कर्नल दत्ता के फार्म हाउस क्यों जाता था?

- अ) पढ़ाई करने के लिए
- ब) खेलने के लिए
- स) भोजन बनाने के लिए
- द) देखभाल करने के लिए

उत्तर - अ) पढ़ाई करने के लिए

फीडबैक- बिशन कर्नल दत्ता के फार्म हाउस में पढ़ाई करने के लिए जाता था ।

व्याकरण

6- रात में चमकते तारे ऐसे दिख रहे थे, मानो.....

- (क) चींटी चल रही हो।
- (ख) आकाश में दूधिया चादर बिछी हो।
- (ग) बारिश हो रही हो।
- (घ) बारात आ रही हो।

उत्तर-(ख) आकाश में दूधिया चादर बिछी हो।

फीडबैक- रात में चमकते तारे ऐसे दिख रहे थे, मानो आकाश में दूधिया चादर बिछी हो। (आकाश में दूधिया चादर बिछी हो। तुलना की जा रही है।)

7- सही सर्वनाम शब्दों को भरकर वाक्य पूरा करें।

.....शिकारी हैं,पास लाइसेंस वाली बंदूकें हैं।

- अ) मैं, मेरे
- ब) तुम, तुम्हारे
- स) हम, हमारे
- द) वह, उसके

उत्तर- स) हम ,हमारे

फीडबैक- सर्वनाम शब्दों का सही प्रयोग हम शिकारी हैं,हमारे पास लाइसेंस वाली बंदूकें हैं।

वर्तनी

8- शुद्ध शब्द छांटकर वाक्य पूरे करिए ।

वहाँ पहाड़ों को यथासंभव काट-काटकरबनाया जाता है।

अ) सीढ़ीनुमा

ब) सीढ़ीनुमा

स) सीडीनुमा

द) सिड़ीनुमा

उत्तर - ब) सीढ़ीनुमा

फीडबैक- जो सीढ़ी की तरह बराबर एक के बाद एक ऊँचा होता गया हो।

9- सब्जियों को बनाने में तेजपत्ता का प्रयोग होता है।

(क) जयकेदार

(ख) जायाकेदार

(ग) ज़ायकेदार

(घ) जयाकेदार

उत्तर - (ग) ज़ायकेदार

फीडबैक-स्वादिष्ट, मजेदार, जो खाने या पीने में अच्छा जान पड़े

शब्दभंडार

10- केवल फल खाकर रहनेवाला-

क) फुलारी

(ख) शिकारी

(ग) मांसाहारी

(घ) फलाहारी

उत्तर - (घ) फलाहारी

फीडबैक-केवल फल खाकर जीवन निर्वाह करने वाला व्यक्ति

CBT QUESTION PAPER
Maths- V

Chapter: 10 Tenths And Hundredths ,11. Area and Boundary

Competency: Knowledge and Understanding

Q.1- Length of the given box is :



- A. 3 cm B. 2.5 cm C. 1.5 cm D. 2 cm

Ans B. 2.5 CM

Feedback- length of box shown in the picture is 2.5 cm

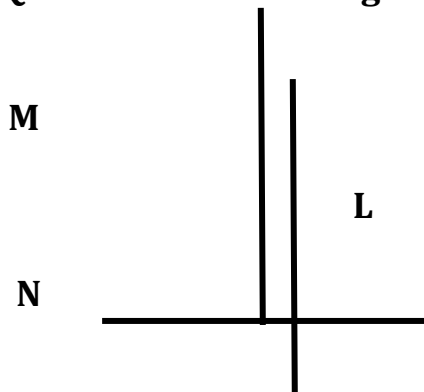
Q.2- Length of the ant is about:

- A. more than 2 cm B. equal to 2 cm
C. less than 0.5 cm D. more than 5 cm

Ans. C. less than 0.5 cm

Feedback - size of an ant is very small it is about less than 0.5 cm

Q.3- Which line is longer:



A. line M
are equal

B. line N

C. Line L

D. All lines

Ans -D. All lines are equal

Feedback - line M,L and N looks different sizes but after measuring all lines found equal in length.

Q.4- $5/100$ can be written in decimal is:

a) 0.05

b) .005

c) 0.5

d) 5

Ans. - a) 0.05

Feedback- When we convert such type of fraction into decimal number the decimal point shifts two place left.(on hundredths place)

Ability to Compute:

Q.5- Addition of 5.245 and 315 is :

a) 315.5

b) 5.245315

c) 5.560

d) 320.245

Ans. d) 320.245

Feedback : after adding both the number we find the value 320.245

Q.6- Observe the temperature chart and answer the following:

How much lower is the temperature in Kolkata from that in Chennai?

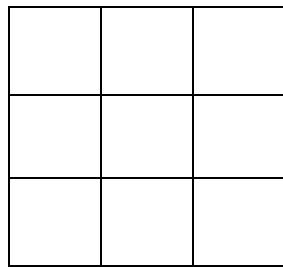
City	Temperature at 3 am
Chennai	21.1
Mumbai	19.0
Th'puram	21.6
Kolkata	13.1
Bhopal	9.8
Srinagar	1.3
Guwahati	12.8
Jaipur	10.2

- a) 6°
- b) 8°
- c) 6.6°
- d) 10°

Ans. b) 8°

Feedback- from the temperature chart we will subtract the temperature of Kolkata(13.1) to temperature of Chennai(21.1) and answer will be 8°C

Q.7- Measure the perimeter of this figure by counting the lines along the boundary.(Each square is 1 cm in length)

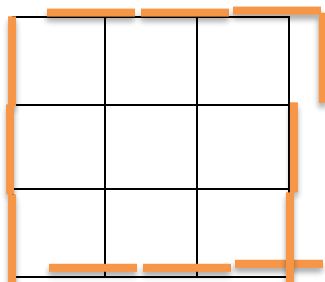


- a) 16 cm
- b) 15 cm
- c) 12 cm
- d) 20 cm

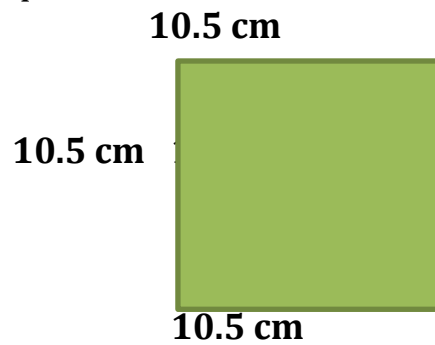
Ans - c) 12 cm

Feedback - We will add the outer length of squares highlighted in the given below picture:

$1\text{cm}+1\text{cm}+1\text{cm}+1\text{cm}+1\text{cm}+1\text{cm}+1\text{cm}+1\text{cm}+1\text{cm}+1\text{cm}+1\text{cm}+1\text{cm} = 12\text{ cm}$



Q.8- The perimeter of a square whose sides are 10.5cm will be



- a) 42 cm b) 40 cm c) 10.20 cm d) 60 cm

Ans -a) 42 cm

Feedback -To find the perimeter, we add together the lengths of all the sides of the shape. So the perimeter of square is $10.5\text{cm}+10.5\text{cm}+10.5\text{cm}+10.5\text{cm}= 42 \text{ cm}$

Problem Solving Ability

Q.9- Find the area of the floor of a room whose length is 20 m and breadth is 10 m ?

- a) 30 m b) 200 squarem
c) 2000m d) 2 m

Ans-b) 200 square m

Feedback -Area is the size of a surface, that you can calculate by multiplying the length by the width of it. So Area of floor is $20\text{m} \times 10\text{m} = 200 \text{ square m}$

Q.10 Choose the shape which is having biggest area:

- a) Shape L 12 m X 10 m b) Shape M 11 m X 13 m
c) Shape N 8 m X 10 m d) Shape O 14 m X 10 m

Ans. -b) Shape M 11 m X 13 m

Feedback -After multiplying the length and width of each shapes L,M,N and O we found area of Shape M is biggest.


**CBT QUESTION PAPER
EVS- V**

Chapters : *WHO WILL DO THIS WORK ?* ACROSS THE WALL

OBSERVATION AND REPORTING

Q1. Identify the person in the picture given .

- a) Bhim Rao Ambedkar
- b) Mahatma Gandhi
- c) Narendra Modi
- d) Rabindranath Tagore



Ans. b) Mahatma Gandhi

Feedback :- The person in picture is Mahatma Gandhi .

Q2. What is work being done in this picture?

- a) Sweeping the road
- b) ragpicking
- c) working in garden
- d) milking a cow



Ans. a) Sweeping the road

Feedback :- Women are sweeping the road .

Q3. Name the sport that is being played by girls in the picture.

- a) Football
- b) Hockey
- c) Cricket
- d) Basketball



Ans) Basketball

Feedback :- Girls are playing basketball .

Q4. Identify the sport women in the picture.

- a) Sakshi Malik
- b) Sania Mirza
- c) Hima Das
- d) Dipa Karmakar



Ans. b) Sania Mirza

Feedback :- The sport women given in the picture is Sania Mirza.

IDENTIFICATION AND CLASSIFICATION

Q5 What is our National game ?

- a) Cricket
- b) Hockey
- c) Volleyball
- d) Table tennis

Ans. b) Hockey

Feedback :- Hockey is our National game.

Q6 Which of the following is indoor game?

- a) Cricket
- b) Ludo
- c) Kabaddi
- d) Kho - Kho

Ans. b)

Feedback :- Ludo is an Indoor game.

Q7 Whose mother works in the flats?

- (a) Khushnoor
- (b) Afsana
- (c) Afreen
- (d) Khushu

Ans. b) Afsana

Feedback :- Afsana mother works in the flats.

DISCOVERY OF FACTS

Q8. What is the full form of NBA ?

- a) Nagpada Basketball Association.
- b) Nagaland Basketball Authority.
- c) North Basketball Association.
- d) None of the above

Ans. a) Nagpada Basketball Association.

Feedback :- The full form of NBA is NAGPADA BASKETBALL ASSOCIATION.

Q9 Ganjdhiji's favourite bhajan 'Vaishnav jan' is in which language ?

- a)Gujarati.
- b)Marathi
- c)English
- d)**Hindi**

Ans.a)Gujrati

Feedback :- Ganjdhiji's favourite bhajan 'Vaishnav jan' is in Gujrati language

Q10Where is Nagpada?

- a) Mumbai
- b) Bhopal
- c) Delhi
- d)Gujarat

Ansa) Mumbai

Feedback :- Nagpada is located in Mumbai.